



## 《驾考精简500题电子版》

判断题

代替实际机动车驾驶人接受交通违法行为处罚和记分牟取经济利益的，一次记12分。



正确



错误

解析：代替实际机动车驾驶人接受交通违法行为处罚和记分牟取经济利益的，一次记12分。

判断题

非机动车驾驶人、行人故意碰撞机动车造成交通事故的，机动车一方不承担赔偿责任。



正确



错误

看文字答题，题干中见到“责任”就选对。（例外情况5题：当出现“不追究”、“自行”、“不得”或“伤亡”时选错）

解析：非机动车和行人故意碰撞机动车的属于碰瓷，机动车一方不承担赔偿责任。

判断题

驾驶校车、公路客运汽车、旅游客运汽车以外的其他载客汽车载人超过核定人数百分之百以上的，一次记12分。



正确



错误

解析：小车超载百分百，扣12分。

判断题

驾驶机动车不按规定使用灯光的，一次记3分。

☐ A 正确

☒ 错误

解析：不按规定使用灯光的，一次记1分。

判断题

取得小型汽车、小型自动挡汽车驾驶证1年以上，  
可以申请增加轻型牵引挂车准驾车型。



正确



错误

解析：取得小型自动挡汽车和小型汽车驾照1年以上，才能申请增驾轻型牵引挂车。

判断题

机动车驾驶人同时被处以暂扣机动车驾驶证的，经满分学习、考试合格且罚款已缴纳的，记分予以清除，在暂扣期限届满后发还机动车驾驶证。



正确



错误

解析：经满分学习、考试合格且罚款已缴纳的，记分清除，发还驾驶证。

判断题

小型自动挡汽车科目二考试内容包括倒车入库、坡道定点停车和起步、侧方停车、曲线行驶、直角转弯。



正确



错误

科二必考内容：倒库、坡道定点停车和起步、侧方停车、曲线行驶、直角转弯。

解析：小型自动挡汽车C1科二必考：倒车入库、坡道定点停车和起步、侧方停车、曲线行驶、直角转弯。



判断题

驾驶机动车上路前应当检查车辆安全技术性能。



正确



错误

上路检查车辆性能，消除隐患减伤害。

解析：题干说上路前检查车辆安全性能，所以选对。

判断题

服用国家管制的精神药品可以短途驾驶机动车。

☐ A 正确

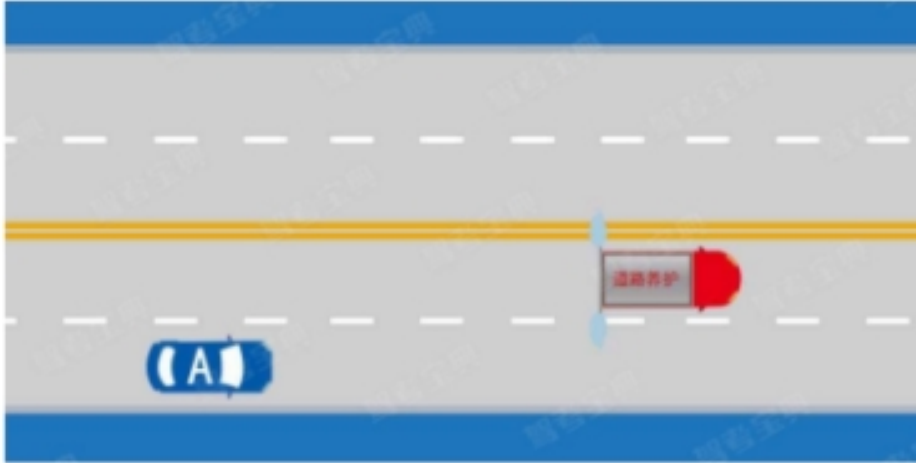
☒ 错误

车有隐患，人不清醒，禁止上路。

解析：吃管制药后人会不清醒，题干说可以驾驶，所以选错。

判断题

如图所示，驾驶过程中遇到这种情况时，A车不可以长鸣喇叭提醒道路养护车辆暂停喷水。



[点击查看大图](#)

☒ 正确

☐ B 错误

解析：特殊车辆要礼让。

判断题

如图所示，校车在最右侧车道停靠上下学生时，校车停靠车道后方和相邻机动车道的机动车应停车等待，最左侧车道上的机动车应当减速通过。



点击查看大图

☒ 正确

☐ B 错误

解析：校车后方和相邻的要停车，其他车道可减速通过。

判断题

如图所示，驾驶机动车在这种情况下可以左转弯。



点击查看大图



正确



错误

解析：红灯停，绿灯行，绿灯亮的方向可以行驶。

判断题

驾驶机动车在高速公路上发生故障时，驾驶人应开启危险报警闪光灯增大警示范围。



正确



错误

解析：开双闪可以增大警示范围，提醒他人。

判断题

驾驶机动车在高速公路加速车道上行驶，应尽快将车速提高到60km/h以上。



正确



错误

解析：车辆已经进入加速车道，要尽快将车速提高到60公里/小时。

判断题

驾驶机动车在人行横道上临时停车属于违法行为。



正确



错误

扣分的都是违法行为，影响驾驶的是陋习。

解析：“人行横道不停让，扣3分”，题干说在人行横道停车属于违法行为，所以选对。



判断题

这个标志的含义是提醒车辆驾驶人前方是车辆渡口。



[点击查看大图](#)



正确



错误

看图答题，黄色三角形内见到水上有船，船上有车，是“渡口”警告标志。所以选对。

解析：黄色三角形内见到水上有船，船上有车，是渡口警告标志，提醒驾驶人前方是渡口，要谨慎行驶。

判断题

如图所示，驾驶机动车遇到这种情况，即使人行横道上没有行人，也不能加速通过。



[点击查看大图](#)



正确



错误

解析：遇到人行横道要减速。

判断题

小型载客汽车驾驶人在一个记分周期内参加满分教育的次数每增加一次或者累积记分每增加12分，道路交通安全法律、法规和相关知识的学习时间增加七天，每次满分学习的天数最多六十天。



正确



错误

解析：满分学习的次数每增加一次，学习时间增加7天，不超过60天。

判断题

机动车未按照规定期限进行安全技术检验的，由公安机关交通管理部门处警告或者二百元以下罚款。



正确



错误

解析：未定期进行车检的，会被处警告或者200元以下罚款。

判断题

驾驶证丢失后，驾驶人可以继续驾驶机动车。

☐ A 正确

☒ 错误

解析：没有驾驶证就不能驾驶车辆。

判断题

伪造、变造机动车驾驶证构成犯罪的将被依法追究刑事责任。



正确



错误

构成犯罪，追究刑事责任。

解析：题干说伪造驾照构成犯罪的追究刑事责任，所以选对。

判断题

有吸食、注射毒品后驾车行为的机动车驾驶人，不会被注销驾驶证。

☐ A 正确

☒ 错误

解析：毒品危害巨大，吸毒后会造成驾驶人精神恍惚，极易引发事故，无论是吸毒后还是戒毒康复期间，都要注销其驾驶证。

判断题

在行驶中，机动车驾驶人要注意与前车保持安全距离。



正确



错误

解析：距离产生美，行车时要与前车保持足够的安全距离，否则追尾可是后车全责。



判断题

在狭窄的路段会车时，应做到礼让三先：先慢、先让、先停。



正确



错误

低速会车靠右行，保持距离减停让。

解析：题干说狭窄路段会车要注意礼让慢行，所以选对。

判断题

车辆在高速公路匝道上倒车时，应打开危险报警闪光灯。

☐ A 正确

☒ 错误

解析：高速公路匝道是出入口靠右侧的一条道路，不准超车、停车、倒车、掉头。

判断题

机动车在道路上发生故障难以移动时要在车后50米以内设置警告标志。

☐ A 正确

☒ 错误

看文字答题，题干中见到“难以移动”就选对。（例外情况1题：当出现“以内”时选错）

解析：发生故障难以移动的，要先疏散车上人员到安全位置，开启危险报警闪光灯，在车后50-100米设置警告标志，迅速报

警等待救援。题干说“50米以内”是错的。

判断题

在高速公路上行驶时，应通过察看行驶速度表来确认车速，以便正确选择行车道。



正确



错误

解析：高速上的车道对应不同的行车速度。

判断题

机动车之间发生交通事故，不管是否有人人员伤亡，只要双方当事人同意，都可自行协商解决。

A 正确

☒ 错误

看文字答题，题干中见到“是否”就选错。（例外情况1题：当出现“燃油”时选对）

解析：发生交通事故，无伤亡、无争议的，可先撤离再协商解决。有伤亡、有争议的，需要立即报警请交警协助处理。

判断题

在道路上发生交通事故造成人身伤亡时，要立即抢救受伤人员并迅速报警。



正确



错误

事故报警：撞公物、无牌标、动不了、伤亡、争议或酒驾。

解析：题干说事故有人伤亡要立即抢救报警，所以选对。

判断题

在道路上造成人身伤亡、事故后果非常严重的交通事故，可自行撤离现场。

A 正确

☒ 错误

看文字答题，题干中见到“伤亡”就选错。（例外情况4题：当出现“报警”、“无争议”时选对）

解析：只有无伤亡、无争议的轻微事故，才可先撤离再协商；有伤亡、有争议的，要立即报警，等待交警协助处理。

判断题

驾驶机动车发生财产损失交通事故后，当事人对事实及成因无争议移动车辆时需要对现场拍照或者标划停车位置。



正确



错误

财产损失事故，协商无争议，拍好照片，快点撤离，避免拥堵。

解析：发生交通事故，无伤亡、无争议的，可先撤离再协商解决。为留存证据，当事人要在移动车辆前对现场拍照或标划停



车位置。

判断题

机动车发生财产损失交通事故，对应当自行撤离现场而未撤离的，交通警察可以责令当事人撤离现场。



正确



错误

解析：应当撤离而没撤离，警察可以责令撤离。

判断题

灯光开关在该位置时，前雾灯点亮。



点击查看大图

A 正确

✓ 错误

解析：波浪形状的光线在左是前雾灯，在右是后雾灯。看图中操纵杆上白色标线指向的是后雾灯。

判断题

机动车仪表板上如图所示指示灯亮时，表示驻车制动器处于制动状态。



[点击查看大图](#)



正确



错误

解析：看图中仪表板上的灯，圆圈里有个“P”是驻车制动器处于制动状态标志。

判断题

机动车仪表板上如图所示指示灯亮，提示右侧车门未关闭。



[点击查看大图](#)

☐ A 正确

☒ 错误

解析：图中仪表板上黄色车辆明显左侧车门未关闭，提醒驾驶员要关好车门再起步。题干说“右侧”是错的。

判断题

机动车仪表板上如图所示指示灯一直亮，表示安全气囊处于工作状态。



[点击查看大图](#)

☐ A 正确

☒ 错误

解析：图中仪表板上黄色圆球表示安全气囊，只有当安全气囊处于故障状态才会一直亮起。题干说“工作状态”是错的。

判断题

机动车仪表板上如下图所示指示灯亮表示发动机可能机油量不足。



[点击查看大图](#)



正确



错误

解析：看图中仪表板上的灯像个在滴油的油壶，表示该车发动机机油压力过低或油量不足。

判断题

驾驶非机动车、拖拉机、轮式专用机械车、铰接式客车、全挂拖斗车以及其他设计最高时速低于七十公里的机动车，不得进入高速公路。



正确



错误

解析：上述车型最高时速低于70公里，不得上高速行驶。

判断题

机动车在环形路口内行驶，遇有其他车辆强行驶入时，只要有优先权就可以不避让。

☐ A 正确

☒ 错误

复杂路段减速行，遇人遇车要礼让，必要靠边停车让。

解析：别人违法，为保安全要礼让，所以选错。



判断题

当后排座位没有人乘坐时，后车门未关好就起步也是可以的。

☐ A 正确

☒ 错误

门关好再起步，车停稳再开门，人员系安全带。

解析：题干说后车门未关好也可以起步，所以选错。

单选题

下列交通违法行为，一次记9分的是什么？



驾驶机动车在城市快速路上违法停车的



驾驶载货汽车违反规定载客的



驾驶机动车在高速公路上穿越中央分隔带掉头的



驾驶机动车在高速公路上逆行的

解析：驾驶机动车在城市快速路上违法停车的，一次记9分。

单选题

驾驶机动车发生交通事故后当事人故意破坏、伪造现场、毁灭证据的，应当承担什么责任？

- ☐ A 主要责任
- ☐ B 次要责任
- ☐ C 同等责任
- ☒ 全部责任

判责：非故意都负责；故意、不礼让的负全责；掉货物的负全责。

解析：故意的一方负全责，所以选“全部责任”。

单选题

申请轻型牵引挂车准驾车型的，年龄应满多少周岁？

- ☐ A 22周岁
- ☐ B 19周岁
- ☐ C 18周岁
- ☒ 20周岁

解析：轻型牵引挂车即C6，申请年龄限于20-60。

单选题

下列关于同一机动车所有人名下两辆机动车的号牌号码互换，以下说法正确的是什么？

- ☐ A 同一机动车一年内可以多次互换变更机动车号牌号码
- ☐ B 两辆机动车使用性质为非营运可以申请互换
- ☒ C 申请前两车无未处理的道路交通安全违法和交通事故记录
- ☐ D 两辆机动车在不同辖区车辆管理所登记可以申请互换

解析：申请前两车无未处理的道路交通安全违法和交通事故记录，同一机动车所有人名下机动车的号牌可以申请互换。

单选题

申请人以欺骗、贿赂等不正当手段取得机动车驾驶证的（被撤销的），申请人在多长时间内不得再次申领机动车驾驶证？

- ☐ A 6个月
- ☐ B 1年
- ☐ C 2年
- ☒ D 3年

解析：以欺骗、贿赂取得驾驶证被撤销的，三年内不得再次申领。（假一吊二撤三醉五逃终生）

单选题

申请人有下列哪种行为，三年内不得再次申领机动车驾驶证？

- ☐ A 实习期记满12分，注销驾驶证的
- ☐ B 申请人在考试过程中有舞弊行为的
- ☒ C 申请人以欺骗、贿赂等不正当手段取得机动车驾驶证的
- ☐ D 学习驾驶证明过期的

解析：以欺骗、贿赂等不正当手段取得驾驶证的，将被依法撤销驾驶许可，三年内不得再次申领。

单选题

关于机动车号牌灭失、丢失或者损毁的，以下说法错误的是什么？

- ☐ A 机动车所有人应当向登记地车辆管理所申请补领、换领
- ☒ B 补领、换领机动车号牌的，原机动车号牌可以继续使用
- ☐ C 车辆管理所补发、换发号牌，原机动车号牌号码不变
- ☐ D 补发、换发号牌期间，申请人可以申领有效期不超过十五日的临时行驶车号牌

解析：补领、换领机动车号牌的，原机动车号牌不得再使用。



单选题

驾驶机动车在城市快速路上违法占用应急车道行驶的，一次记几分？

- ☐ A 9分
- ☐ B 3分
- ☒ C 6分
- ☐ D 12分

解析：驾驶机动车在高速公路或者城市快速路上违法占用应急车道行驶的，一次记6分。

单选题

下列交通违法行为，一次记9分的是什么？



驾驶故意遮挡、污损机动车号牌的机动车上道路行驶的

B

造成致人轻微伤或者财产损失的交通事故后逃逸，尚不构成犯罪的

C

驾驶机动车不按交通信号灯指示通行

D

机动车驾驶证被暂扣或者扣留期间驾驶机动车的

解析：驾驶故意遮挡、污损机动车号牌的机动车上道路行驶的，一次记9分。

单选题

年龄在70周岁以上的驾驶人多长时间提交一次身体条件证明？

- ☐ A 每3年
- ☐ B 每2年
- ☒ C 每1年
- ☐ D 每6个月

70周岁以上的驾驶人，注重健康要1年1查，每年提交身体证明。

解析：70周岁以上的驾驶人，要每一年提交一次身体证明，为自己也为他人安全着想。

单选题

驾驶机动车有拨打、接听手持电话等妨碍安全驾驶的行为的，一次记几分？



3分



1分



6分



9分

解析：开车接打手持电话会分散驾驶人的注意力，容易导致交通事故，一次记3分。

单选题

驾驶达到报废标准的机动车上道路行驶的，公安交通管理部门将会予以收缴。以下说法错误的是什么？

- ☐ A 驾驶报废车影响驾驶人行车安全
- ☐ B 报废车机械老化、容易发生交通事故
- ☐ C 车辆不符合安全技术标准，需要强制报废
- ☒ D 不美观，影响城市形象

已经达到报废标准的车辆性能方面具有安全隐患，会影响驾驶，不得上路行驶，题干问说法错误的，所以选“不美观，影响城市形象”。

解析：公安交通管理部门收缴上路的报废车，是因为报废车严

重老化非常危险，与不美观无关。

单选题

这个标志是何含义？



[点击查看大图](#)

- ☐ A 十字交叉路口告知
- ☒ B 互通式立体交叉告知
- ☐ C Y形交叉路口告知
- ☐ D 环形交叉路口告知

解析：图中蓝牌标志，有道路名称且中间全相连，是互通式立体交叉预告标志，用以告知前方交叉路口相关信息。

单选题

这个标志是何含义？



[点击查看大图](#)

- ☐ A 多股铁路与道路相交
- ☐ B 有人看守铁路道口
- ☒ C 无人看守铁路道口
- ☐ D 注意长时鸣喇叭

道口标志，栅栏有人，火车无人，一条斜杠50米。

解析：火车表示无人看守，所以选“无人看守铁路道口”。



单选题

在这种雨天跟车行驶使用灯光，以下说法正确的是？



[点击查看大图](#)

- ☐ A 使用远光灯
- ☐ B 不能使用近光灯
- ☒ C 不能使用远光灯
- ☐ D 使用雾灯

解析：图中是雨天能见度较低，且前方有车，跟车行驶要使用近光灯，不能开远光灯影响前车视线。



单选题

这段道路蓝车所在车道是什么车道？



点击查看大图

- ☒ 快速车道
- ☐ B 慢速车道
- ☐ C 专用车道
- ☐ D 应急车道

解析：图中同方向划有3条车道，蓝车所在的最左侧为快速车道。

单选题

这个路面标记是何含义？



点击查看大图

- ☐ A 最低限速为100公里/小时
- ☐ B 平均速度为100公里/小时
- ☐ C 解除100公里/小时限速
- ☒ 最高限速为100公里/小时

看图答题，图中黄色代表最高限速，选项中找到“高”。所以选“最高限速为100公里/小时”。

解析：图中路面数字是速度限制标记，根据数字颜色区分：黄色是最高限速，白色是最低限速。此题为最高限速100公里/小

时。

单选题

这个标志是何含义？



点击查看大图

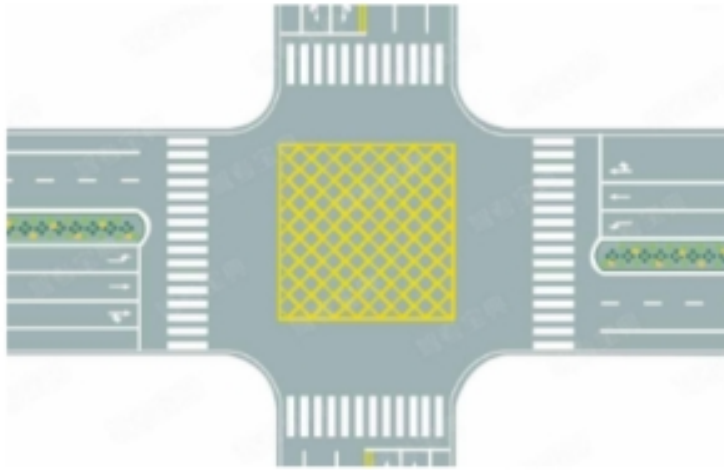
- ☐ A 室内停车场
- ☒ B 露天停车场
- ☐ C 专用停车场
- ☐ D 内部停车场

看图答题，图中P不带伞，就是室外，所以选“露天停车场”。

解析：蓝牌标志内有个“P”，是露天停车场标志。延展：P上带个伞，是室内停车场。

单选题

图中路口中央黄色路面标记是什么标线？



点击查看大图

- ☐ A 中心圈
- ☐ B 导流线
- ☒ C 网状线
- ☐ D 停车区

路口网状线，禁止停车。

解析：题干问是什么标线，所以选“网状线”。

单选题

驾驶机动车在交叉路口前变更车道时，应怎样驶入要变更的车道？

- ☐ A 在路口前实线区内根据需要
- ☐ B 进入路口实线区内
- ☒ C 在虚线区按导向箭头指示
- ☐ D 在路口停止线前

方向改变，左右转向提前开；仔细观察，不压实线不扰他车。

解析：变道要在虚线处，所以选“在虚线区按导向箭头指示”。

单选题

如图所示，驾驶机动车从匝道驶入高速公路时，以下做法正确的是什么？



[点击查看大图](#)

- ☐ A 提前开启右转向灯
- ☐ B 在匝道上超车
- ☐ C 直接加速驶入高速公路主线
- ☒ 提前开启左转向灯

解析：方向向左就要提前开左转向灯。

单选题

如图所示，在高速公路上开车遇到图中所示情况时，以下操作不正确的是什么？



[点击查看大图](#)

- A 应该打开雾灯、近光灯、示廓灯、前后位灯，危险报警闪光灯
- B 能见度低，应该与同车道前车保持一定距离
- C 降低车速，防止紧急情况下无法及时制动

解析：图中是雾天，能见度低，行车视线受阻，不可高速行驶。要开启雾灯、近光灯、示廓灯、前后位置灯和危险报警闪光灯，与前车保持较大的跟车距离，降低车速行驶。注意是选“不正确的”。



单选题

这一组交通警察手势是什么信号？



[点击查看大图](#)

- ☒ 左转弯待转信号
- ☐ B 左转弯信号
- ☐ C 减速慢行信号
- ☐ D 右转弯信号

手臂放身侧：左臂下压，左弯待转；右臂下压，减速慢行。

解析：图中交警左臂下压，所以选“左转弯待转信号”。



单选题

驾驶机动车在没有道路中心线的狭窄山路怎样会车？

- ☐ A 速度慢的先行
- ☐ B 重车让空车先行
- ☐ C 靠山体的一方先行
- ☒ 不靠山体的一方先行

狭窄山路会车，不靠山体的一方相对危险。所以选“不靠山体先行”。

解析：狭窄山路会车，不靠山体的一方相对危险，具有优先通行权，可先行。

单选题

假如你驾车行驶在颠簸路段时，以下做法正确的是什么？

- ☐ A 稳住加速踏板
- ☒ B 挂低挡位缓抬加速踏板
- ☐ C 挂高挡位缓抬加速踏板
- ☐ D 挂低挡位踏满加速踏板

颠簸不平低挡过。

解析：题干问颠簸路段行车的正确做法，所以选“挂低挡位缓抬加速踏板”。

单选题

驾驶机动车在高速公路上行驶，遇有能见度小于200米的恶劣气象条件时，车速不得超过每小时多少公里？

- ☐ A 50
- ☒ B 60
- ☐ C 40
- ☐ D 30

解析：高速上能见度小于200，车速不超过60，距离大于100。

单选题

如图所示，行驶至这种上坡路段时，以下做法正确的是什么？



[点击查看大图](#)

- ☒ 换低挡位，踏加速踏板
- ☐ B 换低挡位，松开加速踏板
- ☐ C 换高挡位，踏加速踏板
- ☐ D 换高挡位，松开加速踏板

解析：图中是坡度较大的陡坡，爬坡时要挂低挡以给发动机更大的牵引力，踏加速踏板以保证上坡速度，避免发生溜车。

单选题

在学习驾驶证明的有效期内，科目二和科目三道路驾驶技能考试预约次数分别不得超过多少次？

A 3次

B 4次

☒ C 5次

D 6次

解析：科目二和科目三只有5次考试机会，有效期3年，从科目一考试合格后开始算起。

单选题

驾驶人违反交通运输管理法规发生重大事故后，因逃逸致人死亡的，处多少年有期徒刑？

- ☐ A 2年以下
- ☐ B 3年以下
- ☐ C 7年以下
- ☒ 7年以上

看清楚了，他是“因逃逸致人死亡”，比“致人死亡后逃逸”更严重。所以选“7年以上”。

解析：重点看是否有逃逸，且是否因逃逸致人死亡。未逃逸：3年以下；逃逸或情节特别恶劣：3-7年；因逃逸致人死亡：7年

以上。

单选题

驾驶校车、中型以上载客载货汽车、危险物品运输车辆以外的机动车在高速公路、城市快速路以外的道路上行驶超过规定时速百分之五十以上的，一次记几分？

- ☐ A 1分
- ☐ B 3分
- ☒ C 6分
- ☐ D 9分

解析：注意看清题目，是校车、中型以上载客载货汽车等以外的车辆，在高速、城市快速路以外的道路上，超速50%以上，一次记6分。

单选题

小型载客汽车驾驶人在一个记分周期内累积记分满12分的，应当参加为期多少天的道路交通安全法律、法规和相关知识学习？

- ☐ A 3日
- ☐ B 10日
- ☒ C 7日
- ☐ D 30日

解析：小型汽车驾驶人一个记分周期内累积记分达到12分的，要参加为期7天的法律法规学习。



单选题

根据交通违法行为的严重程度，一次记分的分值为？

- ☐ A 12分、6分、2分、1分
- ☒ B 12分、9分、6分、3分、1分
- ☐ C 12分、9分、2分、1分
- ☐ D 12分、9分、5分、2分、1分

解析：一次计分分值为：12分、9分、6分、3分、1分。

单选题

在道路上驾驶机动车追逐竞驶，情节恶劣的，或者在道路上醉酒驾驶机动车的如何处罚？

- ☐ A 3年以下有期徒刑
- ☐ B 7年以下有期徒刑
- ☒ C 处拘役，并处罚金
- ☐ D 10年以下有期徒刑

20到80是酒驾：扣12分；80以上是醉驾：拘役罚款。

解析：题干问追逐竞驶或醉驾的处罚，所以选“处拘役，并处罚金”。

单选题

交通肇事致一人以上重伤，负事故全部或者主要责任，并具有下列哪种行为的，构成交通肇事罪？

- ☐ A 未及时报警
- ☒ B 严重超载驾驶的
- ☐ C 未抢救受伤人员
- ☐ D 未带驾驶证

解析：1. 酒驾或毒驾；2. 无驾驶资格驾车；3. 车辆有安全隐患；4. 无牌车或报废车；5. 严重超载；6. 肇事逃逸。具有以上任意一种行为，且致人重伤，负全部或主要责任的，都是交通肇事罪。

单选题

驾驶人违反交通运输管理法规发生重大事故致人重伤、死亡，可能会受到什么刑罚？



处3年以下徒刑或者拘役



处3年以上7年以下徒刑



处5年以上徒刑



处7年以上徒刑

看文字答题，选项中见到“拘役”可直接选。

解析：重点看是否有逃逸，且是否因逃逸致人死亡。未逃逸：3年以下；逃逸或情节特别恶劣：3-7年；因逃逸致人死亡：7年以上。

单选题

机动车驾驶人血液中酒精含量大于或者等于多少可认定为醉驾？

- ☐ A 20毫克/100毫升
- ☐ B 60毫克/100毫升
- ☒ C 80毫克/100毫升
- ☐ D 50毫克/100毫升

20到80是酒驾：扣12分；80以上是醉驾：拘役罚款。

解析：题干问酒精含量多少为醉驾，所以选“80毫克/100毫升”。

单选题

以下哪种行为处十日以下拘留，并处一千元以上二千元以下罚款，吊销机动车驾驶证？

- ☐ A 醉酒驾驶机动车的
- ☐ B 故意遮挡机动车号牌的
- ☐ C 使用其他车辆保险标志的
- ☒ 因饮酒后驾驶机动车被处罚，再次饮酒后驾驶机动车的

酒驾暂扣6个月，再次酒驾就吊销、禁止申领AB照。

解析：题干问哪种行为处拘留罚款并吊销驾照，所以选“因饮酒后驾驶机动车被处罚，再次饮酒后驾驶机动车的”。

单选题

机动车驾驶人处理完交通违法行为记录后累积记分未满12分，参加公安机关交通管理部门组织的交通安全教育并达到规定要求的，可以申请在机动车驾驶人现有累积记分分值中扣减记分。在一个记分周期内累计最高扣减几分？

- ☐ A 3分
- ☒ B 6分
- ☐ C 5分
- ☐ D 12分

解析：参加满分学习，一个记分周期累计最高减6分。

单选题

驾驶证记载的驾驶人信息发生变化的要在多长时间内申请换证？

- ☐ A 60日
- ☐ B 50日
- ☐ C 40日
- ☒ 30日

信息有变，30日内备案、换证。

解析：题干问信息变化在多长时间换证，所以选“30日”。



单选题

准驾车型为小型汽车的，可以驾驶下列哪种车辆？



低速载货汽车



中型客车



三轮摩托车



轮式自行机械

解析：小型汽车C1，还准许驾驶C2、C3、C4车型。选项中低速载货汽车是C3，中型客车是B1，三轮摩托车是D，轮式专用机械车是M，所以答案为低速载货汽车。

单选题

机动车驾驶人请他人代为接受交通违法行为处罚和记分并支付经济利益的，由公安机关交通管理部门处所支付经济利益多少倍以下罚款，但最高不超过多少万元？

- ☒ 三，五
- ☐ B 三，三
- ☐ C 两，五
- ☐ D 两，两

解析：请他人代为接受扣分并支付经济利益的，会被处以三倍以下罚款，不超五万。

单选题

初次申领的机动车驾驶证的有效期为多少年？

- ☐ A 3年
- ☐ B 5年
- ☒ C 6年
- ☐ D 12年

初领6年，无满分记录可换发10年、长期。

解析：题干问初领驾照的有效期年限，所以选“6年”。

单选题

如图所示，遇到这种单方交通事故，应当如何处理？



[点击查看大图](#)

- ☐ A 不用报警
- ☒ B 报警
- ☐ C 直接联系路政部门进行理赔
- ☐ D 直接联系绿化部门

解析：图中虽然是单方交通事故，但由于车辆撞到了隔离带，涉及到公共财产损坏，需要立即报警，找交警协助处理。

单选题

机动车之间发生交通事故造成轻微财产损失，当事人对事实及成因无争议时，在确保安全的原则下，对现场拍照或标划事故车辆现场位置后，可自行撤离现场处理损害赔偿事宜，主要目的是什么？

- ☐ A 双方互有损失
- ☐ B 找现场证人就行了，不必报警
- ☒ C 为了及时恢复交通，避免造成交通拥堵
- ☐ D 事故后果很小，无需赔偿

轻微财产损失事故，协商无争议，尽快撤离不要影响其他车辆。所以选“避免造成交通拥堵”。

解析：发生轻微财产损失事故，无伤亡，无争议的，可先拍照撤离再协商解决，尽快恢复交通，以防造成拥堵。

单选题

行车中遇交通事故受伤者需要抢救时，应怎样做？



及时将伤者送医院抢救或拨打急救电话



B 尽量避开，少惹麻烦



C 绕过现场行驶



D 借故避开现场

伸出您的援手，爱心传递你我他。所以选“及时将伤者送医院抢救或拨打急救电话”。

解析：遇到交通事故需要抢救伤员时，要提供力所能及的帮助，将伤者送往医院或拨打急救电话。选项中“避开”、“绕过

”都是不提倡的行为。

单选题

发生无人员伤亡的、财产轻微损失的交通事故后，以下做法正确的是什么？

- ☐ A 必须报警，等候警察处理
- ☐ B 开车离开现场
- ☒ C 确保安全的情况下，对现场拍照，然后将车辆移至路边等不妨碍交通的地点
- ☐ D 停在现场保持不动

发生无人员伤亡、财产轻微损失的事故，不得妨碍交通。所以选“确保安全的情况下，对现场拍照，然后将车辆移至路边等不妨碍交通的地点”。



解析：发生无人员伤亡、财产轻微损失的事故，要先拍照取证，再将车转移到不妨碍交通的位置，自行协商解决。

单选题

驾驶机动车发生交通事故未造成人身伤亡的，责任明确双方无争议时，应当如何处置？

- ☐ A 保护好现场再协商
- ☐ B 不要移动车辆
- ☐ C 疏导其他车辆绕行
- ☒ D 撤离现场自行协商

看文字答题，题干中有“自行协商”，就在选项中找到“无争议”。题干中见到“无争议”，选项中找到“自行协商”。



解析：未造成人员伤亡，且双方无争议的，就要尽快撤离现场自行协商解决，以免造成交通拥堵。

单选题

发生交通事故时，下列哪种情况下当事人应当保护现场并立即报警？

- ☐ A 未造成人员伤亡的
- ☐ B 未发生财产损失事故
- ☐ C 未损害公共设施及建筑物的
- ☒ D 驾驶人有酒后驾驶嫌疑的

事故报警：撞公物、无牌标、动不了、伤亡、争议或酒驾。

解析：题干问哪种情况要立即报警，所以选“驾驶人有酒后驾

驶嫌疑的”。

单选题

机动车仪表板上如图所示指示灯亮表示什么？



点击查看大图

- ☐ A 前雾灯打开
- ☒ B 后雾灯打开
- ☐ C 前照灯近光打开
- ☐ D 前照灯远光打开

解析：看图中仪表板上的灯，有纵向线且为黄色光线向右，是后雾灯。

单选题

机动车仪表板上如图所示指示灯亮表示什么？



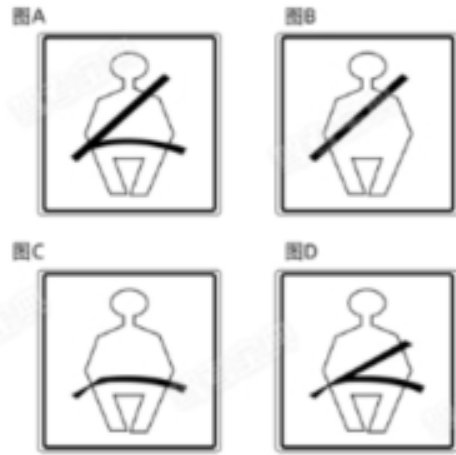
点击查看大图

- ☐ A 已开启前照灯远光
- ☐ B 已开启前雾灯
- ☐ C 已开启后雾灯
- ☒ 已开启前照灯近光

解析：看图中仪表板上的灯，光线为绿色倾斜线，是近光灯。  
 延展：光线是蓝色平行线，是远光灯。

单选题

以下安全带系法正确的是？



[点击查看大图](#)



如图中A所示



如图中B所示



如图中C所示



如图中D所示

解析：安全带正确系法：肩部安全带斜着从胸前通过，不要放在胳膊下；腰部安全带系在髋部，不要系在腹部，所以图A是正确的。

单选题

机动车仪表板上如图所示指示灯亮表示什么？



点击查看大图

- ☐ A 制动踏板没回位
- ☐ B 驻车制动解除
- ☐ C 行车制动器失效
- ☒ 制动系统出现异常

解析：看图中仪表板上的灯，圆圈里有个“！”是制动系统出现异常标志。

单选题

以下缩写中，表示车辆自适应巡航系统缩写的是  
什么？

- ☐ A BSD
- ☒ ACC
- ☐ C AEB
- ☐ D FCW

解析：自适应巡航系统的英文缩写是ACC。

单选题

以下缩写中，表示车辆车道偏离预警系统缩写的是什么？

- ☐ A ALC
- ☐ B TSR
- ☒ C LDW
- ☐ D TMC

解析：车道偏离预警系统的英文缩写是LDW。

单选题

这是什么操纵装置？



点击查看大图

- ☐ A 节气门操纵杆
- ☐ B 驻车制动器操纵杆
- ☒ C 变速器操纵杆
- ☐ D 离合器操纵杆

球头变速器；柱形驻车制动器。

解析：图中球形操纵装置，所以选“变速器操纵杆”。



单选题

将机动车交由未取得机动车驾驶证的人驾驶的，由公安交通管理部门处二百元以上二千元以下罚款，可以并处以下哪种处罚？

- ☐ A 15日以下拘留
- ☒ B 吊销驾驶证
- ☐ C 扣留车辆
- ☐ D 5年不得重新取得新驾驶证

把车给没有驾驶证的人开，就要被罚款，并且吊销驾驶证。所以选“吊销驾驶证”。

解析：将车交由未取得驾驶证的人驾驶，会追究车主的连带责任，可依法吊销车主驾驶证，并处200-2000元罚款。注意这里

的处罚都是针对车主的。

单选题

以下哪项行为可构成危险驾驶罪？

- ☐ A 闯红灯
- ☐ B 无证驾驶
- ☐ C 疲劳驾驶
- ☒ 醉驾

危险驾驶罪：竞驶或醉驾，处拘役罚金。

解析：题干问构成危险驾驶罪的行为，所以选“醉驾”。

单选题

这是什么踏板？



点击查看大图

- ☐ A 加速踏板
- ☒ B 离合器踏板
- ☐ C 制动踏板
- ☐ D 驻车制动器

踏板：左离合，中制动，右加速。

解析：图中左侧踏板，所以选“离合器踏板”。

单选题

正面安全气囊与什么配合才能充分发挥保护作用？



[点击查看大图](#)



座椅安全带



防抱死制动系统



座椅安全头枕



安全玻璃

气囊辅助安全带，保护人员减伤害。

解析：题干问安全气囊要和什么配合使用，所以选“座椅安全带”。

单选题

驾驶这种机动车上路行驶属于什么行为？



点击查看大图

- ☐ A 违规行为
- ☐ B 违章行为
- ☒ C 违法行为
- ☐ D 犯罪行为

扣分的都是违法行为，影响驾驶的是陋习。

解析：“遮挡不挂扣9分”，图中车辆故意遮挡号牌，所以选“违法行为”。